

М.У.
№2656
03-15946

Фроловичев А.И. уч.З
Аналитическая геометрия
Г07Ч.2



ННЫЙ
ЕНИЯ

Кафедра «Прикладная математика -2»

А.И. Фроловичев

АНАЛИТИЧЕСКАЯ ГЕОМЕТРИЯ
Часть II

Рекомендовано редакционным издательским советом университета в качестве методических указаний для студентов специальности АКБ.

МОСКВА – 2007

УДК 514

Ф 91

Фроловичев А.И. Аналитическая геометрия.

Часть II.

Методические указания.- М.: МИИТ, 2007. - 51 с.

Предназначены для студентов I курса специальности АКБ по дисциплине геометрия. Содержит разделы: прямая на плоскости, прямая и плоскость в пространстве.

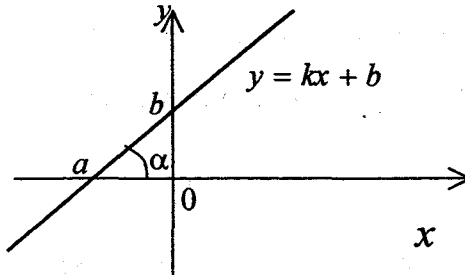
©Московский государственный университет
путей сообщения (МИИТ), 2007

Тема 1. Прямая на плоскости.

1. Уравнение прямой с угловым коэффициентом

$$y = kx + b. \quad (1.1)$$

Угловым коэффициентом k прямой – это тангенс угла наклона α прямой к оси Ox .



2. В декартовой системе координат каждая прямая на плоскости определяется уравнением первой степени $Ax + By + C = 0$ ($A^2 + B^2 \neq 0$) и, наоборот, каждое уравнение первой степени с двумя переменными определяет прямую.

Уравнение вида

$$Ax + By + C = 0 \quad (A^2 + B^2 \neq 0) \quad (1.2)$$

называется *общим уравнением прямой*. Если в нем $C = 0$, то прямая проходит через начало координат; если $A = 0$, то

прямая параллельна оси абсцисс; если $B = 0$, то прямая параллельна оси ординат.

3. Уравнение прямой, проходящей через две данные точки $A(x_1; y_1)$ и $B(x_2; y_2)$ имеет вид

$$\frac{x - x_1}{x_2 - x_1} = \frac{y - y_1}{y_2 - y_1}. \quad (1.3)$$

4. Уравнение прямой в отрезках.

Если прямая пересекает ось Ox в точке $(a; 0)$, а ось Oy в точке $(0; b)$ (см. рис.), то ее уравнение имеет вид

$$\frac{x}{a} + \frac{y}{b} = 1. \quad (1.4)$$

5. Острый угол φ между прямыми, имеющими угловые коэффициенты k_1 и k_2 , определяется по формуле

$$\operatorname{tg} \varphi = \left| \frac{k_2 - k_1}{1 + k_1 k_2} \right|. \quad (1.5)$$

Условие параллельности двух прямых, имеющих угловые коэффициенты k_1 и k_2 :

$$k_1 = k_2. \quad (1.6)$$

Условие перпендикулярности двух прямых:

$$k_1 k_2 = -1. \quad (1.7)$$

6. Уравнение прямой, проходящей через данную точку $A(x_0; y_0)$ и имеющей угловой коэффициент k :

$$y - y_0 = k(x - x_0). \quad (1.8)$$

7. Взаимное расположение прямых на плоскости.

Если даны две прямые $A_1x + B_1y + C_1 = 0$ и $A_2x + B_2y + C_2 = 0$, то их взаимное расположение определяется системой

$$\begin{cases} A_1x + B_1y + C_1 = 0, \\ A_2x + B_2y + C_2 = 0. \end{cases}$$

Возможны следующие случаи:

а). система имеет единственное решение, т.е. прямые пересекаются;

б). система имеет множество решений, т.е. прямые совпадают;

в). система не имеет решений, т.е. прямые параллельны.

8. Пучок прямых.

Совокупность всех прямых, проходящих через данную точку S , называется пучком прямых. S - центр пучка.

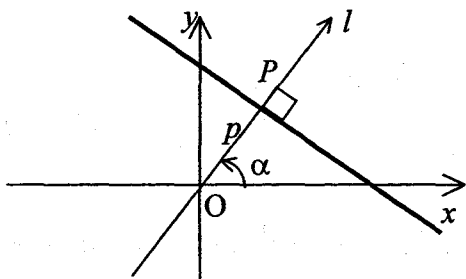
Если $A_1x + B_1y + C_1 = 0$ и $A_2x + B_2y + C_2 = 0$ - уравнения двух прямых, пересекающихся в точке S , то уравнение любой прямой пучка имеет вид

$$\alpha(A_1x + B_1y + C_1) + \beta(A_2x + B_2y + C_2) = 0, \quad (1.9)$$

где α и β некоторые действительные числа, одновременно неравные нулю.

9. Нормальное уравнение прямой:

$$x \cos \alpha + y \sin \alpha - p = 0. \quad (1.10)$$



Свойства нормального уравнения:

- 1). $-p \leq 0$;
- 2). $\cos^2 \alpha + \sin^2 \alpha = 1$.

Для приведения общего уравнения прямой к нормальному виду, необходимо обе его части поделить на $\pm \sqrt{A^2 + B^2}$ (знак выбирается противоположным знаком C).

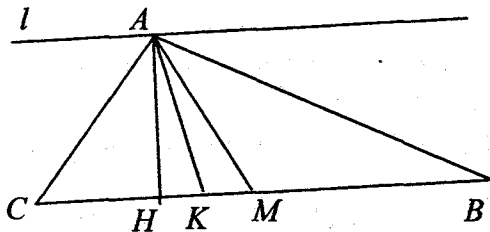
10. Расстояние d от точки $A(x_0; y_0)$ до прямой $Ax + By + C = 0$ находится по формуле

$$d = \frac{|Ax_0 + By_0 + C|}{\sqrt{A^2 + B^2}}. \quad (1.11)$$

11. Уравнения биссектрис углов между прямыми $A_1x + B_1y + C_1 = 0$ и $A_2x + B_2y + C_2 = 0$ имеют вид

$$\frac{A_1x + B_1y + C_1}{\sqrt{A_1^2 + B_1^2}} \pm \frac{A_2x + B_2y + C_2}{\sqrt{A_2^2 + B_2^2}} = 0. \quad (1.12)$$

Задача 6.1. Даны стороны треугольника ABC : (AB) $x + y - 6 = 0$, (BC) $3x - 5y + 14 = 0$ и (AC) $5x - 3y - 14 = 0$.



Составить уравнения:

- 1). высоты AH ;
- 2). медианы AM ;
- 3). биссектрис углов между прямыми AC и BC .
- 4). прямой l , проходящей через точку A параллельно прямой BC .

Найти:

- 5). длину h высоты AH ;
- 6). угол α между прямыми AC и BC .

► Найдем вершины треугольника ABC , как точки пересечения соответствующих прямых.

$$A: \begin{cases} x + y - 6 = 0, \\ 5x - 3y - 14 = 0; \end{cases} \text{ откуда } A(4;2).$$

$$B: \begin{cases} x + y - 6 = 0, \\ 3x - 5y + 14 = 0; \end{cases} \text{ откуда } B(2;4).$$

$$C: \begin{cases} 5x - 3y - 14 = 0, \\ 3x - 5y + 14 = 0; \end{cases} \text{ откуда } C(7;7).$$

1). Уравнение BC перепишем в виде $y = \frac{3}{5}x + \frac{14}{5}$.

Угловой коэффициент k_{BC} прямой BC равен $3/5$.

Высота AH по определению является прямой, проходящей через точку A перпендикулярно BC . Используя условие перпендикулярности двух прямых, получаем

$$k_{AH} = -1/k_{BC} = -\frac{1}{3/5} = -\frac{5}{3}.$$

Далее можно использовать уравнения (1.1) или (1.8).

Зная, что прямая AH проходит через точку $A(4;2)$, из (6.8) получаем

$$y - 2 = -\frac{5}{3} \cdot (x - 4).$$

Итак, уравнение AH : $y = -\frac{5}{3}x + \frac{26}{3}$.

2). Найдем координаты точки M , как середины отрезка BC . Получаем $M\left(\frac{9}{2}; \frac{11}{2}\right)$.

По формуле (1.3) получаем уравнение прямой AM :

$$\frac{x - 4}{\frac{9}{2} - 4} = \frac{y - 2}{\frac{11}{2} - 2}.$$

Окончательно, уравнение AM : $y = 7x - 26$.

3). Рассматривая формулу (1.12) получаем уравнения биссектрис углов между прямыми AC и BC :

$$\frac{5x - 3y - 14}{\sqrt{5^2 + (-3)^2}} \pm \frac{3x - 5y + 14}{\sqrt{3^2 + (-5)^2}} = 0,$$

упрощая которое, получаем две биссектрисы: $y = x$ и $y = -x + 14$.

4). Угловой коэффициент k_{BC} прямой BC равен $3/5$. Используя условие параллельности двух прямых, получаем

$$k_l = k_{BC} = \frac{3}{5}.$$

Далее можно поступить как в пункте 1).

Рассмотрим другой способ. Зная, что прямая l с угловым коэффициентом проходит через точку $A(4;2)$, из (1.1) получаем уравнение

$$2 = \frac{3}{5} \cdot 4 + b,$$

откуда $b = -\frac{2}{5}$ и уравнение прямой l выглядит так:

$$y = \frac{3}{5}x - \frac{2}{5}.$$

5). Длину h высоты AH можно найти, используя формулу для расстояния между двумя точками (для этого предварительно нужно искать точку H).

Мы же используем формулу (1.11) для точки $A(4;2)$ и прямой $BC: 3x - 5y + 14 = 0$. Получим

$$h = \frac{|3 \cdot 4 - 5 \cdot 2 + 14|}{\sqrt{3^2 + (-5)^2}} = \frac{16}{\sqrt{34}}.$$

6). Угол α между прямыми AC и BC найдем по формуле (1.5). Угловые коэффициенты прямых: $k_{AC} = \frac{5}{3}$,

$k_{BC} = \frac{3}{5}$. Получаем

$$\operatorname{tg} \alpha = \frac{\left| \frac{5}{3} - \frac{3}{5} \right|}{1 + \frac{5}{3} \cdot \frac{3}{5}} = \frac{16}{2 \cdot 15} = \frac{8}{15},$$

откуда $\alpha = \operatorname{arctg} \left(\frac{8}{15} \right) \approx 28^\circ$. ◀

Задача 6.2. Найти прямую, проходящую через точку пересечения прямых $3x - 4y + 7 = 0$ и $5x + 2y + 3 = 0$ и параллельную оси ординат.

► Прямая принадлежит пучку (см. 1.9)

$$\alpha(3x - 4y + 7) + \beta(5x + 2y + 3) = 0, \quad \text{т.е.}$$

$$(3\alpha + 5\beta)x + (-4\alpha + 2\beta)y + (7\alpha + 3\beta) = 0.$$

Так как искомая прямая параллельна оси ординат, то коэффициент при y должен быть равен 0: $-4\alpha + 2\beta = 0$, т.е. $\beta = 2\alpha$. Подставив полученное выражение в уравнение пучка, получим $13\alpha x + 13\alpha = 0$. Искомое уравнение: $x = -1$. ◀

Задача 6.3. Составить уравнения прямых, проходящих через точку $M(5;1)$ и образующих с прямой $2x + y - 4 = 0$ угол $\pi/4$.

► Очевидно, что таких прямых две. Пусть угловой коэффициент одной из них равен k . Угловой коэффициент заданной прямой равен -2 . Так как угол между искомой и заданной прямой равен $\pi/4$, то по формуле (1.5)

$$\operatorname{tg} \frac{\pi}{4} = \left| \frac{k+2}{1-2k} \right|, \text{ т.е. } 1 = \left| \frac{k+2}{1-2k} \right|,$$

откуда

$$\frac{k+2}{1-2k} = 1 \text{ и } \frac{k+2}{1-2k} = -1.$$

Решая каждое из полученных уравнений, находим $k = -1/3$ и $k = 3$. Итак, уравнение одной из искомым прямых запишется (см. 1.8) в виде $y - 1 = (-1/3)(x - 5)$, т.е. $x + 3y - 8 = 0$, а уравнение другой прямой в виде $y - 1 = 3(x - 5)$, т.е. $3x - y - 14 = 0$. ◀

Задачи для самостоятельного решения.

1.4. При каких значениях a прямая $(a+2)x + (a^2 - 9)y + 3a^2 - 8a + 5 = 0$ а). параллельна оси абсцисс; б). параллельна оси ординат; в). проходит через начало координат.

Ответ: а). -2 ; б). ± 3 ; в). $1; 5/8$.

1.5. Принадлежат ли точки $A(3;1)$, $B(0;4)$ прямой $2x - 3y - 3 = 0$.

Ответ: A принадлежит, B не принадлежит.

1.6. Найти точку пересечения прямых $3x - 4y - 29 = 0$ и $2x + 5y + 19 = 0$.

Ответ: $(3; -5)$.

1.7. Определить точки пересечения прямых $3x - 4y - 12 = 0$, $4x + 3y + 12 = 0$, $3x + 5y - 15 = 0$ с осями координат. Построить эти прямые.

1.8. Построить области, координаты точек которых удовлетворяют неравенствам:

а). $y < 2 - x$, $x > -2$, $y > -2$;

б). $y > 2 - x$, $x < 4$, $y < 0$;

в). $\frac{x}{4} + \frac{y}{2} \leq 1$, $y \geq x + 2$, $x > -4$.

1.9. Определить угловой коэффициент k и отрезок b , отсекаемый на оси Oy для прямых: а). $5x + 2y - 10 = 0$; б). $5x + 2y - 20 = 0$; в). $2x - 5y + 10 = 0$; г). $3x + 2y = 0$; д). $y = 4$.

1.10. Даны прямые $2x + y + 3 = 0$, $y = x$, $x = 5$, $y = 2$. Составить уравнения прямых, проходящих через точку $A(2;3)$ и 1). параллельных данным прямым; 2). перпендикулярных данным прямым.

Ответ: 1). $2x + y - 7 = 0$; $x - y + 1 = 0$; $x = 2$; $y = 3$;
2). $x - 2y + 4 = 0$; $x + y - 5 = 0$; $y = 3$; $x = 2$.

1.11. Определить угол между прямыми

а). $5x - y + 10 = 0$, $3x + y = 0$;

б). $2x + 3y + 4 = 0$, $4x + 6y - 7 = 0$;

в). $3x + 4y + 5 = 0$, $4x - 3y + 10 = 0$.

Ответ: а). $\arctg 0,5$; б). 0^0 ; в). 90^0 .

1.12. Дана прямая $2x + 3y + 4 = 0$. Составить уравнения прямых, проходящих через точку $A(2;1)$ под углом 45^0 к данной прямой.

Ответ: $x - y - 1 = 0$, $x + y - 3 = 0$.

1.13. Найти проекцию точки $P(-6;4)$ на прямую $4x - 5y + 3 = 0$.

Ответ: $(-2; -1)$.

1.14. Найти точку Q , симметричную точке $P(-5;13)$ относительно прямой $2x - 3y - 3 = 0$.

Ответ: (11; -11).

1.15. $3x - 4y + 5 = 0$ - уравнение стороны прямоугольника. Точки $A(1; -3)$, $B(1; 2)$ - его вершины. Написать уравнения других сторон прямоугольника.

Ответ: $4x + 3y - 10 = 0$; $4x + 3y + 5 = 0$;
 $3x - 4y - 15 = 0$.

1.16. Даны вершины треугольника $A(1; -1)$, $B(-2; 1)$, $C(3; 5)$. Составить уравнение перпендикуляра, опущенного из вершины A на медиану, проведенную из вершины B .

Ответ: $4x + y - 3 = 0$.

1.17. Вычислить площадь треугольника, отсекаемого прямой $5x - 3y + 15 = 0$ от координатного угла.

Ответ: 7,5.

1.18. Составить уравнение прямой, проходящей через точку $C(8; 6)$ и отсекающей от координатного угла треугольник площадью $S = 12$.

Ответ: $3x - 2y - 12 = 0$, $3x - 8y + 24 = 0$.

1.19. На оси абсцисс найти точку, расстояние которой от прямой $8x + 15y + 10 = 0$ равно 1.

Ответ: $(7/8; 0)$ и $(-27/8; 0)$.

1.20. Точка $A(2;-5)$ является вершиной квадрата, одна из сторон которого лежит на прямой $x - 2y - 7 = 0$. Вычислить площадь квадрата.

Ответ: 5.

1.21. Две стороны квадрата лежат на прямых $5x - 12y - 65 = 0$, $5x - 12y + 26 = 0$. Вычислить его площадь.

Ответ: 49.

1.22. Найти центр пучка прямых, заданного уравнением $\alpha(2x + 3y - 1) + \beta(x - 2y - 4) = 0$.

Ответ: $(2;-1)$.

1.23. Найти уравнение прямой, принадлежащей пучку прямых $\alpha(x + 2y - 5) + \beta(3x - 2y + 1) = 0$: а). проходящей через точку $A(3;-1)$; б). проходящей через начало координат; в). параллельной оси Ox ; г). параллельной оси Oy ; д). параллельной прямой $4x + 3y + 5 = 0$; е). перпендикулярной прямой $2x + 3y + 7 = 0$.

Ответ: а). $3x + 2y - 7 = 0$; б). $2x - y = 0$; в). $y = 2$; г). $x = 1$; д). $4x + 3y - 10 = 0$; е). $3x - 2y + 1 = 0$.

1.24. Написать уравнения биссектрис углов между прямыми $2x + 3y - 10 = 0$, $3x + 2y - 10 = 0$.

Ответ: $x = y$ и $x + y - 4 = 0$.

1.25. Составить уравнение прямой, проходящей посередине между параллельными прямыми $2x - y + 3 = 0$ и $2x - y - 9 = 0$.

Ответ: $2x - y - 3 = 0$.

1.26. Дан треугольник с вершинами $A(-2;0)$, $B(2;4)$ и $C(4;0)$. Написать уравнения сторон треугольника, медианы AE , высоты AD и найти длину медианы AE и высоты AD .

Ответ: $AE: 2x - 5y + 4 = 0$, $AD: x - 2y + 2 = 0$,

$$AE = \sqrt{29}, \quad AD = \frac{12\sqrt{5}}{5}.$$

1.27. Найти внутренние углы треугольника, стороны которого заданы уравнениями $x + 2y = 0$, $x + 4y - 6 = 0$, $x - 4y - 6 = 0$.

Указание. Чтобы найти внутренние углы треугольника, нужно угловые коэффициенты сторон выписать в порядке убывания $k_1 > k_2 > k_3$, а затем вычислить тангенсы углов по формулам

$$\frac{k_1 - k_2}{1 + k_1 k_2}, \quad \frac{k_2 - k_3}{1 + k_2 k_3}, \quad \frac{k_3 - k_1}{1 + k_1 k_3}.$$

Ответ: 28° , $12,5^{\circ}$ и $139,5^{\circ}$.

1.28. Через точку $P(2;0)$ провести прямую так, чтобы ее отрезок, заключенный между прямыми $3x + 7y + 5 = 0$ и $x + 5y - 11 = 0$, делился в точке P пополам.

Ответ: $2x + y - 4 = 0$.

1.29. Луч света направлен по прямой $x - 2y + 5 = 0$. Дойдя до прямой $3x - 2y + 7 = 0$, луч от нее отражается. Составить уравнение прямой, на которой лежит отраженный луч.

Ответ: $29x - 2y + 33 = 0$.

1.30. Даны точки $A(-2;0)$, $B(0;6)$. Через середину отрезка AB провести прямую, отсекающую на оси абсцисс отрезок, вдвое больший, чем на оси ординат.

Ответ: $x + 2y - 4 = 0$.

1.31. Даны точки $A(-2;0)$ и $B(2;-2)$. На отрезке OA построен параллелограмм $OACD$, диагонали которого пересекаются в точке B . Написать уравнения сторон, диагоналей параллелограмма и найти угол CAD .

Ответ: $y = 0$, $2x + 3y + 4 = 0$, $y = -4$, $2x + 3y = 0$, $x + 2y + 2 = 0$, $y = -x$, $\alpha = \arctg 1/8$.

1.32. Даны уравнения боковых сторон равнобедренного треугольника $3x + y = 0$ и $x - 3y = 0$ и точка $(5;0)$, на его основании. Найти периметр и площадь треугольника.

Ответ: $4(\sqrt{10} + \sqrt{5})$, 20.

1.33. Найти вершины прямоугольного равнобедренного треугольника, если дана вершина прямого угла $C(3;-1)$ и уравнение гипотенузы $3x - y + 2 = 0$.

Ответ: $\left(\frac{3}{5}; \frac{19}{5}\right)$, $\left(-\frac{9}{5}; \frac{17}{5}\right)$.

1.34. Даны две вершины треугольника $A(-4;3)$ и $B(4;-1)$ и точка пересечения высот $M(3;3)$. Найти третью вершину C .

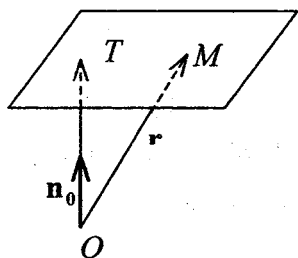
Ответ: $C(4;5)$.

1.35. Вычислить координаты вершин ромба, если известны уравнения двух его сторон: $x + 2y = 4$, $x + 2y = 10$, и уравнение одной из его диагоналей: $y = x + 2$.

Ответ: $(0;2)$, $(4;0)$, $(2;4)$, $(-2;6)$.

Тема 2. Плоскость.

1. Нормальное уравнение плоскости.



Положение плоскости в пространстве будет вполне определено, если задать ее расстояние p от начала координат и единичный вектор \mathbf{n}_0 , перпендикулярный к плоскости и направленный от начала O к

плоскости (см. рис.).

Пусть \mathbf{r} - радиус-вектор произвольной точки M плоскости. Ее уравнение может быть переписано в виде

$$\mathbf{r}\mathbf{n}_0 - p = 0 \quad (2.1)$$

Оно называется *нормальным уравнением плоскости*.

Если x, y, z координаты точки M , а вектор \mathbf{n}_0 образует с осями координат углы α, β и γ , то получим *нормальное уравнение плоскости в координатной форме*

$$x \cos \alpha + y \cos \beta + z \cos \gamma - p = 0. \quad (2.2)$$

Выведенные уравнения остаются в силе и тогда, когда $p = 0$, т.е. данная плоскость проходит через начало координат. В этом случае за \mathbf{n}_0 можно принять любой из двух единичных векторов, перпендикулярных к плоскости и отличающихся один от другого направлением.

Таким образом, всякая плоскость может быть представлена уравнением первой степени относительно текущих координат.

2. Общее уравнение плоскости.

Всякое уравнение первой степени

$$Ax + By + Cz + D = 0 \quad (2.3)$$

с тремя переменными определяет некоторую плоскость.

Уравнение вида $Ax + By + Cz + D = 0$ ($A^2 + B^2 + C^2 \neq 0$) называется общим уравнением плоскости.

Для приведения общего уравнения плоскости к нормальному виду нужно умножить его на множитель

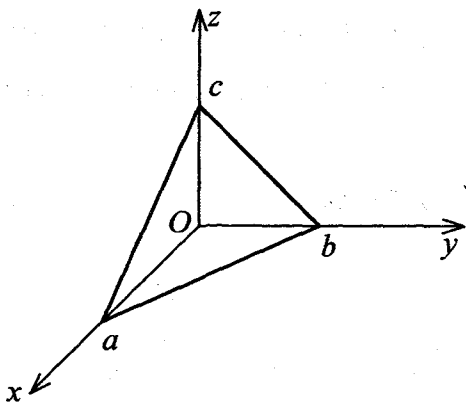
$$M = \pm \frac{1}{\sqrt{A^2 + B^2 + C^2}},$$
 причем знак множителя нужно взять

противоположным знаку свободного члена D .

3. Исследование общего уравнения плоскости.

А) Если $D = 0$, то $Ax + By + Cz = 0$ - плоскость проходит через начало координат.

Б) Если $C = 0$, то $Ax + By + D = 0$ - плоскость параллельна оси Oz .



В). Если $C = D = 0$, то $Ax + By = 0$ - плоскость проходит через ось Oz .

Г). Если $B = C = 0$, то $Ax + D = 0$ - плоскость параллельна плоскости yOz .

Д) Если $B = C = D = 0$, то $x = 0$ - плоскость yOz .

4. Уравнение плоскости в отрезках.

Если плоскость пересекает ось Ox в точке $(a; 0; 0)$, ось Oy - в точке $(0; b; 0)$, ось Oz - в точке $(0; 0; c)$, то ее уравнение имеет вид

$$\frac{x}{a} + \frac{y}{b} + \frac{z}{c} = 1 \quad (2.4)$$

5. Уравнение плоскости, проходящей через данную точку $M_0(x_0; y_0; z_0)$ перпендикулярно данному вектору $\mathbf{n}\{A; B; C\}$, имеет вид

$$A(x - x_0) + B(y - y_0) + C(z - z_0) = 0, \quad (2.5)$$

а вектор $\mathbf{n}\{A; B; C\}$ называется нормальным вектором плоскости или вектором нормали.

6. Уравнение плоскости, проходящей через три данные точки $M_1(x_1; y_1; z_1)$, $M_2(x_2; y_2; z_2)$, $M_3(x_3; y_3; z_3)$:

$$\begin{vmatrix} x - x_1 & y - y_1 & z - z_1 \\ x_2 - x_1 & y_2 - y_1 & z_2 - z_1 \\ x_3 - x_1 & y_3 - y_1 & z_3 - z_1 \end{vmatrix} = 0. \quad (2.6)$$

7. Угол φ между двумя плоскостями – это любой из двух двугранных углов, образованных этими плоскостями.

Если $A_1x + B_1y + C_1z + D_1 = 0$ и $A_2x + B_2y + C_2z + D_2 = 0$ - две данные плоскости, то один из углов между ними равен углу между их нормальными векторами $\mathbf{n}_1\{A_1; B_1; C_1\}$ и $\mathbf{n}_2\{A_2; B_2; C_2\}$, т.е.

$$\cos \varphi = \frac{\mathbf{n}_1 \cdot \mathbf{n}_2}{|\mathbf{n}_1| \cdot |\mathbf{n}_2|} = \frac{A_1A_2 + B_1B_2 + C_1C_2}{\sqrt{A_1^2 + B_1^2 + C_1^2} \cdot \sqrt{A_2^2 + B_2^2 + C_2^2}}. \quad (2.7)$$

Плоскости *перпендикулярны*, если $\mathbf{n}_1 \perp \mathbf{n}_2$,
т.е. $\mathbf{n}_1 \cdot \mathbf{n}_2 = A_1A_2 + B_1B_2 + C_1C_2 = 0$.

Плоскости *параллельны*, если $\mathbf{n}_1 \parallel \mathbf{n}_2$, т.е. $\mathbf{n}_1 = \lambda \mathbf{n}_2$,
т.е. $\lambda = \frac{A_1}{A_2} = \frac{B_1}{B_2} = \frac{C_1}{C_2} \neq \frac{D_1}{D_2}$.

Плоскости *совпадают*, если $\frac{A_1}{A_2} = \frac{B_1}{B_2} = \frac{C_1}{C_2} = \frac{D_1}{D_2}$.

8. *Уравнение пучка плоскостей*. Пучок плоскостей – множество плоскостей, имеющих общую прямую.

Любые две непараллельные плоскости, заданные уравнениями $A_1x + B_1y + C_1z + D_1 = 0$ и

$A_2x + B_2y + C_2z + D_2 = 0$ определяют пучок плоскостей

$$A_1x + B_1y + C_1z + D_1 + \lambda(A_2x + B_2y + C_2z + D_2) = 0, \quad (2.8)$$

из которого при подходящем λ можно получить уравнение любой (кроме второй) плоскости пучка.

9. *Точка пересечения трех плоскостей*. Чтобы найти координаты точки пересечения трех плоскостей, данных своими уравнениями

$$A_1x + B_1y + C_1z + D_1 = 0,$$

$$A_2x + B_2y + C_2z + D_2 = 0,$$

$$A_3x + B_3y + C_3z + D_3 = 0,$$

нужно решить эти уравнения совместно относительно x , y и z .

Если определитель системы отличен от нуля, то плоскости пересекаются в одной точке.

10. Расстояние d от данной точки $M_0(x_0; y_0; z_0)$ до данной плоскости $Ax + By + Cz + D = 0$ вычисляется по формуле

$$d = \frac{|Ax_0 + By_0 + Cz_0 + D|}{\sqrt{A^2 + B^2 + C^2}}. \quad (2.9)$$

Задача 7.1. Даны пять точек $A(3; -1; 2)$, $B(4; -1; -1)$, $C(2; 0; 2)$, $D(1; 1; 1)$, $E(0; 0; 1)$. Написать уравнения:

- 1). плоскости ABC ;
- 2). плоскости α , проходящей через точку D параллельно плоскости ABC ;
- 3). плоскости β , проходящей через точки E и D перпендикулярно плоскости ABC ;
- 4). плоскости γ , проходящей через линию пересечения плоскостей α и β , параллельно оси Oy .

Найти:

- 5). расстояние d от точки D до плоскости ABC ;

6). угол φ между плоскостями α и γ .

► 1). Воспользуемся уравнением (7.7):

$$\begin{vmatrix} x-3 & y-(-1) & z-2 \\ 4-3 & -1-(-1) & -1-2 \\ 2-3 & 0-(-1) & 2-2 \end{vmatrix} = 0 \Leftrightarrow$$

$$(x-3) \begin{vmatrix} 0 & -3 \\ 1 & 0 \end{vmatrix} - (y+1) \begin{vmatrix} 1 & -3 \\ -1 & 0 \end{vmatrix} + (z-2) \begin{vmatrix} 1 & 0 \\ -1 & 1 \end{vmatrix} = 0 \Leftrightarrow$$

$$3(x-3) + 3(y+1) + (z-2) = 0.$$

Окончательно, уравнение ABC имеет вид:

$$3x + 3y + z - 8 = 0.$$

2). Плоскость α параллельна плоскости ABC , поэтому можно считать, что эти плоскости имеют один и тот же нормальный вектор $\mathbf{n}\{3;3;1\}$. По формуле (7.5) для точки $D(1;1;1)$ и вектора $\mathbf{n}\{3;3;1\}$ получаем уравнение плоскости α :

$$3(x-1) + 3(y-1) + (z-1) = 0.$$

Итак, уравнение плоскости α , проходящей через точку D параллельно плоскости ABC , имеет вид

$$3x + 3y + z - 7 = 0.$$

3). Необходимо найти вектор нормали \mathbf{N} искомой плоскости β . Он перпендикулярен искомой плоскости, а,

следовательно, вектору $\overline{ED}\{1;1;0\}$ и нормальному вектору $\mathbf{n}\{3;3;1\}$ плоскости ABC , т.е. равен их векторному произведению.

Тогда

$$\mathbf{N} = \mathbf{n} \times \overline{ED} = \begin{vmatrix} \mathbf{i} & \mathbf{j} & \mathbf{k} \\ 1 & 1 & 0 \\ 3 & 3 & 1 \end{vmatrix} = \mathbf{i} \begin{vmatrix} 1 & 0 \\ 3 & 1 \end{vmatrix} - \mathbf{j} \begin{vmatrix} 1 & 0 \\ 3 & 1 \end{vmatrix} + \mathbf{k} \begin{vmatrix} 1 & 1 \\ 3 & 3 \end{vmatrix} = \mathbf{i} - \mathbf{j}, \quad \text{т.е.}$$

$\mathbf{N}\{1;-1;0\}$.

Напишем уравнение плоскости, проходящей через точку $E(0;0;1)$ перпендикулярно вектору $\mathbf{N}\{1;-1;0\}$ (см. 2.5):

$$1 \cdot (x - 0) - 1 \cdot (y - 0) + 0 \cdot (z - 1) = 0.$$

Итак, уравнение плоскости β имеет вид

$$x - y = 0.$$

4). Воспользуемся уравнением (2.8) пучка плоскостей, образованного плоскостями $3x + 3y + z - 7 = 0$ и $x - y = 0$:

$$3x + 3y + z - 7 + \lambda(x - y) = 0;$$

$$(3 + \lambda)x + (3 - \lambda)y + z - 7 = 0.$$

Так как искомая плоскость параллельна оси ординат, то коэффициент при y должен быть равен нулю: $3 - \lambda = 0$, т.е. $\lambda = 3$. Подставив найденное значение λ в уравнение

пучка, получаем уравнение искомой плоскости γ :

$$6x + z - 7 = 0.$$

5). По формуле (2.9) для точки $D(1;1;1)$ и плоскости $3x + 3y + z - 8 = 0$ имеем

$$d = \frac{|Ax_0 + By_0 + Cz_0 + D|}{\sqrt{A^2 + B^2 + C^2}} = \frac{|3 \cdot 1 + 3 \cdot 1 + 1 - 8|}{\sqrt{3^2 + 3^2 + 1^2}} = \frac{1}{\sqrt{19}}.$$

6). Острый угол φ между плоскостями $3x + 3y + z - 7 = 0$ и $6x + z - 7 = 0$ найдем по формуле (2.7):

$$\cos \varphi = \frac{|3 \cdot 6 + 3 \cdot 0 + 1 \cdot 1|}{\sqrt{3^2 + 3^2 + 1^2} \cdot \sqrt{6^2 + 1^2}} = \frac{19}{\sqrt{19} \cdot \sqrt{37}} = \frac{\sqrt{19}}{\sqrt{37}},$$

откуда $\varphi = \arccos\left(\frac{\sqrt{19}}{\sqrt{37}}\right) \approx 44,2^\circ$. ◀

Задачи для самостоятельного решения.

2.2. Написать уравнение плоскости, проходящей через точку $A(2;1;-1)$ и имеющей нормальный вектор $\mathbf{n}\{1;-2;3\}$. Построить плоскость.

Ответ: $x - 2y + 3z + 3 = 0$.

2.3. Даны две точки $M_1(3;-1;2)$ и $M_2(4;-2;-1)$.

Написать уравнение плоскости, проходящей через точку M_1 перпендикулярно вектору $\overline{M_1M_2}$.

Ответ: $x - y - 3z + 2 = 0$.

2.4. Составить уравнение плоскости, проходящей через точку $M_1(3;4;-5)$ параллельно двум векторам $\mathbf{a}\{3;1;-1\}$ и $\mathbf{b}\{1;-2;1\}$.

Ответ: $x + 4y + 7z + 16 = 0$.

2.5. Составить уравнение плоскости, проходящей через точки $M_1(2;-1;3)$ и $M_2(3;1;2)$, параллельно вектору $\mathbf{a}\{3;-1;4\}$.

Ответ: $x - y - z = 0$.

2.6. Составить уравнение плоскости, проходящей через три точки $M_1(3;-1;2)$, $M_2(4;-1;-1)$ и $M_3(2;0;2)$.

Ответ: $3x + 3y + z - 8 = 0$.

2.7. Определить при каком значении k плоскости, заданные уравнениями $3x - 5y + kz - 3 = 0$ и $x + 3y + 2z + 5 = 0$, перпендикулярны.

Ответ: $k = 6$.

2.8. Определить при каких значениях k и m плоскости $2x + ky + 3z - 5 = 0$ и $mx - 6y - 6z + 2 = 0$ параллельны.

Ответ: $k = 3, m = -4$.

2.9. Определить острый угол между плоскостями, заданными уравнениями $x + 2y + 2z - 3 = 0$ и $16x + 12y - 15z - 1 = 0$.

Ответ: $\arccos \frac{2}{15}$.

2.10. Составить уравнение плоскости, проходящей через точку $A(3; -2; -7)$ параллельно плоскости $2x - 3z + 5 = 0$.

Ответ: $2x - 3z - 27 = 0$.

2.11. Составить уравнение плоскости, проходящей через точку $M(2; -1; 1)$ перпендикулярно двум плоскостям $2x - z + 1 = 0$ и $y = 0$.

Ответ: $x + 2z - 4 = 0$.

2.12. Составить уравнение плоскости, проходящей через точку $M(1; 2; 1)$

- 1). параллельно плоскости: а). xOy ; б). xOz ; в). yOz ;
- 2). проходит через: а). ось Ox ; б). ось Oy ; в). ось Oz .

Ответ: 1). а). $z=1$; б). $y=2$; в). $x=1$; 2). а). $y-2z=0$; б). $x-z=0$; в). $2x-y=0$.

2.13. Дано уравнение плоскости $x+3y-5z-15=0$.
Найти объем пирамиды, ограниченной этой плоскостью и координатными плоскостями.

Ответ: 37,5.

2.14. Составить уравнение плоскости, проходящей через точку $M(4;3;2)$ и отсекающей на координатных осях отрезки равной длины.

Ответ: $x+y+z-9=0$, $x-y-z+1=0$,
 $x-y+z-3=0$, $x+y-z-5=0$.

2.15. Найти расстояние от точки $M(-2;-4;3)$ до плоскости $2x-y+2z+3=0$.

Ответ: 3.

2.16. Найти расстояние между параллельными плоскостями $x-2y-2z-12=0$ и $x-2y-2z-6=0$.

Ответ: 2.

2.17. Две грани куба лежат на плоскостях $2x-2y+z-1=0$ и $2x-2y+z+5=0$. Вычислить объем этого куба.

2.18. На оси Ox найти точку, равноудаленную от двух плоскостей $12x - 16y + 15z + 1 = 0$ и $2x + 2y - z + 1 = 0$.

Ответ: $(2; 0; 0)$ и $(11/43; 0; 0)$.

2.19. Написать уравнение плоскости, проходящей через ось Ox и составляющей угол 60° с плоскостью $y = x$.

Ответ: $y = \pm z$.

2.20. Написать уравнения плоскостей, параллельных плоскости $2x + 2y + z - 8 = 0$ и удаленных от нее на расстояние $d = 4$.

Ответ: $2x + 2y + z = 20$ и $2x + 2y + z + 4 = 0$.

2.21. Написать уравнение плоскости, проходящей через линию пересечения плоскостей $4x - y + 3z - 6 = 0$ и $x + 5y - z + 10 = 0$ и перпендикулярной к плоскости $2x - y + 5z - 5 = 0$.

Ответ: $7x + 14y + 24 = 0$.

2.22. Найти уравнение плоскости, точки которой одинаково удалены от точек $P(1; -4; 2)$ и $Q(7; 1; -5)$.

Ответ: $6x + 5y - 7z - 27 = 0$.

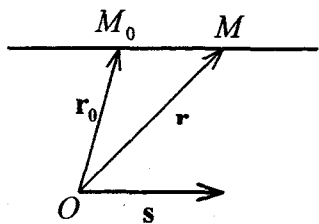
2.24. Найти уравнение плоскости, проходящей через точку пересечения плоскостей $2x + 2y + z - 7 = 0$,

$2x - y + 3z - 3 = 0$, $4x + 5y - 2z - 12 = 0$ и через точки $M(0;3;0)$ и $N(1;1;1)$.

Ответ: $x - z = 0$.

Тема 3. Прямая и плоскость в пространстве.

1. Уравнения прямой линии.



Пусть прямая l проходит через точку M_0 параллельно вектору s , называемому направляющим вектором прямой, M - произвольная точка этой прямой.

Уравнение вида

$$\mathbf{r} = \mathbf{r}_0 + t\mathbf{s}, \quad t \in \mathbf{R} \quad (3.1)$$

называется *векторным уравнением прямой* линии.

Если точки и векторы задать в координатах, т.е. $M_0(x_0; y_0; z_0)$, $M(x; y; z)$, $\mathbf{s}\{m; n; p\}$, то получим систему уравнений

$$\begin{aligned} x &= x_0 + mt, \\ y &= y_0 + nt, \\ z &= z_0 + pt, \end{aligned} \quad (3.2)$$

называемых *параметрическими уравнениями прямой*.

Если же из последних уравнений исключить параметр t , то получим уравнения

$$\frac{x-x_0}{m} = \frac{y-y_0}{n} = \frac{z-z_0}{p}, \quad (3.3)$$

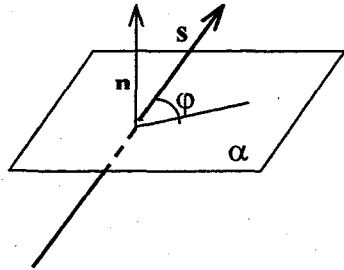
называемые *каноническими уравнениями прямой*.

2. Прямая как линия пересечения двух плоскостей.

Любые две непараллельные плоскости с общими уравнениями

$$\begin{aligned} A_1x + B_1y + C_1z + D_1 &= 0, \\ A_2x + B_2y + C_2z + D_2 &= 0 \end{aligned} \quad (3.4)$$

определяют прямую их пересечения. Эти уравнения, рассматриваемые совместно, называются *общими уравнениями прямой*. От общих уравнений можно перейти к каноническим, найдя точку на прямой (некоторое решение системы) и направляющий вектор прямой ($\mathbf{s} = \mathbf{n}_1 \times \mathbf{n}_2$, где



\mathbf{n}_1 и \mathbf{n}_2 - нормальные векторы данных плоскостей).

3. Угол φ между двумя прямыми.

Пусть
$$\frac{x-x_1}{m_1} = \frac{y-y_1}{n_1} = \frac{z-z_1}{p_1},$$

$$\frac{x-x_2}{m_2} = \frac{y-y_2}{n_2} = \frac{z-z_2}{p_2}$$
 - две данные прямые. Один из

углов между ними равен углу между их направляющими векторами $s_1\{m_1; n_1; p_1\}$ и $s_2\{m_2; n_2; p_2\}$, т.е.

$$\cos \varphi = \frac{s_1 \cdot s_2}{|s_1| \cdot |s_2|} = \frac{m_1 m_2 + n_1 n_2 + p_1 p_2}{\sqrt{m_1^2 + n_1^2 + p_1^2} \cdot \sqrt{m_2^2 + n_2^2 + p_2^2}}. \quad (3.5)$$

Прямые перпендикулярны, если $s_1 \perp s_2$,

т.е. $s_1 \cdot s_2 = m_1 m_2 + n_1 n_2 + p_1 p_2 = 0$.

Прямые параллельны, если $s_1 \parallel s_2$, т.е. $s_1 = \lambda s_2$, т.е.

$$\frac{m_1}{m_2} = \frac{n_1}{n_2} = \frac{p_1}{p_2} = \lambda.$$

4. Уравнение прямой, проходящей через две данные точки $M_1(x_1; y_1; z_1)$ и $M_2(x_2; y_2; z_2)$ имеет вид

$$\frac{x-x_1}{x_2-x_1} = \frac{y-y_1}{y_2-y_1} = \frac{z-z_1}{z_2-z_1}. \quad (3.6)$$

5. Угол φ между прямой l , заданной уравнением

$$\frac{x-x_0}{m} = \frac{y-y_0}{n} = \frac{z-z_0}{p} \quad \text{и} \quad \text{плоскостью} \quad \alpha:$$

$$Ax + By + Cz + D = 0.$$

$$\sin \varphi = \frac{|\mathbf{n} \cdot \mathbf{s}|}{|\mathbf{n}| \cdot |\mathbf{s}|} = \frac{|Am + Bn + Cp|}{\sqrt{A^2 + B^2 + C^2} \cdot \sqrt{m^2 + n^2 + p^2}}. \quad (3.7)$$

Прямая параллельна плоскости, если $\mathbf{s} \perp \mathbf{n}$, т.е. $\mathbf{s} \cdot \mathbf{n} = Am + Bn + Cp = 0$.

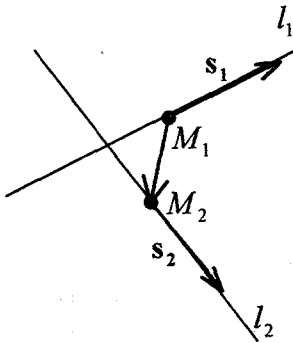
Прямая перпендикулярна плоскости, если $\mathbf{s} \parallel \mathbf{n}$, т.е.

$$\mathbf{s} = \lambda \mathbf{n}, \text{ т.е. } \frac{m}{A} = \frac{n}{B} = \frac{p}{C} = \lambda.$$

6. *Пересечение прямой с плоскостью.* Для нахождения точек пересечения (одной или множества) прямой и плоскости необходимо совместно решить их уравнения. При этом удобнее записать уравнение прямой в параметрическом виде. Пусть дана прямая $x = x_0 + mt$, $y = y_0 + nt$, $z = z_0 + pt$ и плоскость $Ax + By + Cz + D = 0$. Для нахождения их общих точек необходимо решить систему

$$\begin{cases} x = x_0 + mt, \\ y = y_0 + nt, \\ z = z_0 + pt, \\ Ax + By + Cz + D = 0. \end{cases} \quad (3.8)$$

7. *Условие, при котором две прямые лежат в одной плоскости.*



Пусть

$$\frac{x-x_1}{m_1} = \frac{y-y_1}{n_1} = \frac{z-z_1}{p_1}$$

и

$$\frac{x-x_2}{m_2} = \frac{y-y_2}{n_2} = \frac{z-z_2}{p_2}$$

две

данные прямые.

Две данные прямые лежат в одной плоскости тогда и только тогда, когда три вектора $s_1, s_2, \overline{M_1M_2}$ компланарны, т.е. их смешанное произведение равно нулю.

Получаем условие

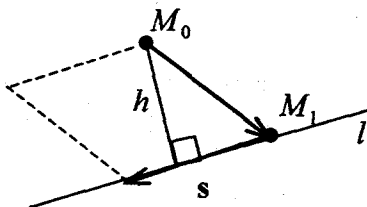
$$\begin{vmatrix} x_2 - x_1 & y_2 - y_1 & z_2 - z_1 \\ m_1 & n_1 & p_1 \\ m_2 & n_2 & p_2 \end{vmatrix} = 0. \quad (3.9)$$

8. Расстояние h от точки $M_0(x_0; y_0; z_0)$ до прямой

l , заданной уравнением $\frac{x-x_1}{m} = \frac{y-y_1}{n} = \frac{z-z_1}{p}$ вычисляется

по формуле

$$h = \frac{\text{площадь параллелограмма}}{\text{длина его основания}} = \frac{|\overline{M_0M_1} \times \mathbf{s}|}{|\mathbf{s}|} \quad (3.10).$$



В координатах это выглядит так

$$h = \frac{\sqrt{\begin{vmatrix} y_1 - y_0 & z_1 - z_0 \\ n & p \end{vmatrix}^2 + \begin{vmatrix} x_1 - x_0 & z_1 - z_0 \\ m & p \end{vmatrix}^2 + \begin{vmatrix} x_1 - x_0 & y_1 - y_0 \\ m & n \end{vmatrix}^2}}{\sqrt{m^2 + n^2 + p^2}}$$

Задача 8.1. Уравнения прямой

$$\begin{cases} 2x - 3y + 3z - 1 = 0, \\ 5x + 4y - z - 7 = 0; \end{cases}$$

привести к каноническому виду.

► 1 способ. Исключив сначала y , а затем z , имеем

$$\begin{cases} 13x + 11z - 11 = 0, \\ 17x + 11y - 22 = 0. \end{cases}$$

Если разрешить каждое из уравнений относительно x , то получим

$$x = \frac{11(y-2)}{-17} = \frac{11(z-1)}{-13}, \text{ т.е. } \frac{x}{-11} = \frac{y-2}{17} = \frac{z-1}{13}.$$

2 способ. Найдем вектор $s\{m;n;p\}$, параллельный искомой прямой. Так как он должен быть перпендикулярен нормальным векторам $\mathbf{n}_1\{2;-1;3\}$ и $\mathbf{n}_2\{5;4;-1\}$ заданных плоскостей, то за s можно принять векторное произведение векторов \mathbf{n}_1 и \mathbf{n}_2 :

$$\mathbf{s} = \mathbf{n}_1 \times \mathbf{n}_2 = \begin{vmatrix} \mathbf{i} & \mathbf{j} & \mathbf{k} \\ 2 & -1 & 3 \\ 5 & 4 & -1 \end{vmatrix} = -11\mathbf{i} + 17\mathbf{j} + 13\mathbf{k}$$

Таким образом, $s\{-11;17;13\}$.

В качестве точки $M_0(x_0; y_0; z_0)$, через которую проходит искомая прямая, можно взять точку пересечения ее с любой из координатных плоскостей, например с плоскостью yOz . Так как при этом $x_0 = 0$, то координаты y_0 и z_0 этой точки определятся из системы уравнений заданных плоскостей, если в них положить $x = 0$:

$$\begin{cases} -y + 3z - 1 = 0, \\ 4y - z - 7 = 0. \end{cases}$$

Решая эту систему, находим $y_0 = 2$, $z_0 = 1$. Итак (по формуле (3.3)), искомая прямая определяется уравнениями

$$\frac{x}{-11} = \frac{y-2}{17} = \frac{z-1}{13}.$$

Замечание. В качестве точки M_0 может быть выбрана любая точка на прямой, что немного изменит вид получаемых канонических уравнений ◀.

Задача 8.2. Дана плоскость $x + y - 2z - 6 = 0$ и вне ее точка $M(1;1;1)$. Найти точку N , симметричную точке M относительно данной плоскости.

► Запишем уравнения произвольной прямой (см. (3.3)), проходящей через точку M : $\frac{x-1}{l} = \frac{y-1}{m} = \frac{z-1}{n}$.

Координаты $\{m; n; p\}$ направляющего вектора прямой, перпендикулярной плоскости, можно заменить координатами нормального вектора $\mathbf{n}\{1;1;-2\}$ данной плоскости. Тогда уравнения этой прямой запишутся в виде

$$\frac{x-1}{1} = \frac{y-1}{1} = \frac{z-1}{-2}.$$

Найдем проекцию точки M на данную плоскость, решив систему

$$\begin{cases} x + y - 2z - 6 = 0, \\ \frac{x-1}{1} = \frac{y-1}{1} = \frac{z-1}{-2}. \end{cases}$$

Перепишем уравнения прямой в параметрическом виде (3.2): $x = t + 1$, $y = t + 1$, $z = -2t + 1$. Подставляя эти выражения для x , y и z в уравнение плоскости, найдем $t = 1$, откуда $x = 2$, $y = 2$, $z = -1$.

Координаты симметричной точки найдутся из формул (1.7): $\bar{x} = \frac{x_M + x_N}{2}$, $\bar{y} = \frac{y_M + y_N}{2}$, $\bar{z} = \frac{z_M + z_N}{2}$, т.е. $2 = \frac{1 + x_N}{2}$, $2 = \frac{1 + y_N}{2}$, $-1 = \frac{1 + z_N}{2}$, откуда $x_N = 3$, $y_N = 3$, $z_N = -3$. Следовательно, $N(3; 3; -3)$. ◀

Задача 8.3. Написать уравнение плоскости, проходящей через прямую $\frac{x-2}{1} = \frac{y-3}{2} = \frac{z+1}{3}$ и точку $M(3; 4; 0)$.

► Очевидно, что точка $N(2; 3; -1)$ принадлежит данной прямой, а, следовательно, искомой плоскости. В качестве нормального вектора \mathbf{n} искомой плоскости можно взять векторное произведение направляющего вектора $\mathbf{s}\{1; 2; 3\}$ данной прямой и вектора $\overline{NM}\{1; 1; 1\}$:

$$\mathbf{n} = \mathbf{s} \times \overline{MN} = \begin{vmatrix} \mathbf{i} & \mathbf{j} & \mathbf{k} \\ 1 & 2 & 3 \\ 1 & 1 & 1 \end{vmatrix} = -\mathbf{i} + 2\mathbf{j} - \mathbf{k}.$$

Напишем уравнение плоскости, проходящей через точку $M(3;4;0)$, перпендикулярно вектору $\mathbf{n}\{-1;2;-1\}$ (см. 2.5), которое и будет искомым:

$$-(x-3)+2\cdot(y-4)-(z-0)=0, \quad \text{т.е.}$$

$$x-2y+z+5=0. \blacktriangleleft$$

Задачи для самостоятельного решения.

3.4. Написать уравнения прямой, проходящей через точку $A(4;3;0)$ параллельно вектору $\mathbf{s}\{-1;1;1\}$

$$\text{Ответ: } \frac{x-4}{-1} = y-3 = z.$$

3.5. Написать параметрические уравнения прямой, проходящей через точки $A(3;-1;4)$ и $B(1;1;2)$.

$$\text{Ответ: } x=1+t, \quad y=1-t, \quad z=2+t.$$

3.6. Найти косинус угла между прямыми

$$\begin{cases} x-y+z-4=0, \\ 2x+y-2z+5=0; \end{cases} \text{ и } \begin{cases} x+y+z-4=0, \\ 2x+3y-z+6=0. \end{cases}$$

$$\text{Ответ: } 11/26.$$

3.7. Доказать параллельность прямых $\begin{cases} x=2t+5, \\ y=-t+2, \text{ и} \\ z=t-7; \end{cases}$

$$\begin{cases} x+3y+z+2=0, \\ x-y-3z-2=0. \end{cases}$$

3.8. Доказать перпендикулярность прямых

$$\frac{x}{1} = \frac{y-1}{-2} = \frac{z}{3} \text{ и } \begin{cases} 3x + y - 5z + 1 = 0, \\ 2x + 3y - 8z + 3 = 0. \end{cases}$$

3.9. Написать уравнения прямой, проходящей через точку $M_0(2;3;-5)$ перпендикулярно к плоскости $6x - 3y - 5z + 2 = 0$.

Ответ: $\frac{x-2}{6} = \frac{y-3}{-3} = \frac{z+5}{-5}$.

3.10. Найти точку пересечения прямой и плоскости:

а). $\frac{x-1}{1} = \frac{y+1}{-2} = \frac{z}{6}, 2x + 3y + z - 1 = 0;$

б). $\frac{x+3}{3} = \frac{y-2}{-1} = \frac{z+1}{-5}, x - 2y + z - 15 = 0;$

в). $\frac{x+2}{-2} = \frac{y-1}{3} = \frac{z-3}{2}, x + 2y - 2z + 6 = 0.$

Ответ: а). $(2; -3; 6)$; б). прямая параллельна плоскости; в). прямая принадлежит плоскости.

3.11. Составить уравнение плоскости, проходящей через точку $M(1; -1; -1)$ перпендикулярно прямой

$$\frac{x+3}{2} = \frac{y-1}{-3} = \frac{z+2}{4}.$$

Ответ: $2x - 3y + 4z - 1 = 0.$

3.12. Составить уравнение плоскости, проходящей через точку $M(1; -2; 1)$ перпендикулярно прямой

$$\begin{cases} x - 2y + z - 3 = 0, \\ x + y - z + 2 = 0. \end{cases}$$

Ответ: $x + 2y + 3z = 0.$

3.13. При каком значении m прямая

$$\frac{x+1}{3} = \frac{y-2}{m} = \frac{z+3}{-2}$$
 параллельна плоскости
 $x-3y+6z+7=0$.

Ответ: $m = -3$.

3.14. При каких значениях k и c прямая

$$\frac{x-2}{k} = \frac{y+1}{4} = \frac{z-5}{-3}$$
 перпендикулярна к плоскости
 $3x-2y+cz+1=0$.

Ответ: $k = -6, c = 3/2$.

3.15. Найти проекцию точки $P(5;2;-1)$ на плоскость
 $2x-y+3z+23=0$.

Ответ: $(1;4;-7)$.

3.16. Найти точку Q , симметричную точке $P(2;-5;7)$ относительно прямой, проходящей через точки $M_1(5;4;6)$ и $M_2(-2;-17;-8)$.

Ответ: $Q(4,1,-3)$.

3.17. Вычислить расстояние d от точки $P(2;3;-1)$ до прямых:

а). $x = t+1, y = t+2, z = 4t+13$, где $t \in \mathbf{R}$;

б).
$$\begin{cases} 2x-2y+z+3=0, \\ 3x-2y+2z+17=0. \end{cases}$$

Ответ: а). 6; б). 15.

3.18. Доказать, что прямые $\begin{cases} 2x+2y-z-10=0, \\ x-y-z-22=0; \end{cases}$ и

$$\frac{x+7}{3} = \frac{y-5}{-1} = \frac{z-9}{4}$$
 параллельны и вычислить расстояние d между ними.

Ответ: 25.

3.19. Составить уравнение плоскости, проходящей через точку $M(2; -2; 1)$ и прямую $\frac{x-1}{2} = \frac{y-2}{-3} = \frac{-z+3}{2}$.

Ответ: $4x + 6y + 5z - 1 = 0$.

3.20. Составить уравнение плоскости, проходящей через две параллельные прямые $\frac{x-2}{3} = \frac{y+1}{2} = \frac{z-3}{-2}$ и

$$\frac{x-1}{3} = \frac{y-2}{2} = \frac{z+3}{-2}.$$

Ответ: $6x - 20y - 11z + 1 = 0$.

3.21. Составить уравнение плоскости, проходящей через прямую, заданную уравнениями $\frac{x-1}{2} = \frac{y+2}{-3} = \frac{z-2}{2}$ перпендикулярно к плоскости $3x + 2y - z - 5 = 0$.

Ответ: $x - 8y - 13z + 9 = 0$.

3.22. Найти кратчайшее расстояние между прямыми $x = -2y = z$, $x = y = 2$.

Ответ: $\frac{6}{\sqrt{5}}$.

3.23. В уравнениях прямой $\frac{x}{2} = \frac{y}{-3} = \frac{z}{n}$ определить параметр n так, чтобы эта прямая пересеклась с прямой $\frac{x+1}{3} = \frac{y+5}{2} = \frac{z}{1}$, и найти точку их пересечения.

Ответ: $n = 1$, $M(2; -3; 1)$.

3.24. Через прямую $\frac{x+1}{2} = \frac{y-1}{-1} = \frac{z-2}{3}$ провести плоскость, параллельную прямой $\frac{x}{-1} = \frac{y+2}{2} = \frac{z-3}{-3}$.

Ответ: $x - y - z + 4 = 0$.

3.25. Найти уравнение проекции прямой $\frac{x-1}{1} = \frac{y+1}{2} = \frac{z}{3}$ на плоскость $x + y + 2z - 5 = 0$.

Ответ: $\frac{x}{1} = \frac{y-5/3}{-1} = \frac{z-5/3}{0}$.

3.26. Даны три последовательные вершины параллелограмма $ABCD$: $A(3;0;-1)$, $B(1;2;-4)$ и $C(0;7;-2)$. Найти уравнения сторон AD и CD .

Ответ: $\frac{x-3}{-1} = \frac{y}{5} = \frac{z+1}{2}$, $\frac{x}{2} = \frac{y-7}{-2} = \frac{z+2}{3}$.

3.27. Найти уравнение перпендикуляра, опущенного из точки $(1;0;-1)$ на прямую $\frac{x+1}{1} = \frac{y-1}{2} = \frac{z}{-3}$.

Ответ: $\frac{x-1}{5} = \frac{y}{-4} = \frac{z+1}{-1}$.

Индивидуальные задания.

Задание 1. Прямая линия на плоскости.

1.1. Доказать, что четыре точки A , B , C , D не лежат на одной прямой.

1.2. Составить уравнения прямых, содержащих стороны треугольника ABC .

1.3. Составить уравнение прямой, проходящей через точку C параллельно стороне AB .

1.4. Определить взаимное расположение прямой M_1M_2 и прямых, содержащих стороны треугольника ABC .

1.5. Составить уравнение прямой, содержащей медиану AM .

1.6. Составить уравнение прямой, содержащей высоту CH .

1.7. Составить уравнение прямой, содержащей биссектрису BK .

1.8. Определить координаты центра тяжести треугольника ABC (точки пересечения медиан).

1.9. Определить периметр треугольника ABC .

1.10. Определить длину высоты CH .

1.11. Определить углы треугольника ABC .

1.12. Составить уравнение прямой $A'B'$, симметричной прямой AB относительно точки C . Сделать чертеж.

Варианты задания 1.

№	A	B	C	M_1	M_2
1	(-5;2)	(5;7)	(1;-1)	(1;2)	(5;4)
2	(-2;10)	(13;5)	(1;1)	(5;5)	(11;7)
3	(3;-1)	(-7;-6)	(-3;2)	(-3;-1)	(-7;-3)
4	(3;-9)	(-12;-4)	(0;0)	(-4;-4)	(-10;-6)
5	(-12;9)	(12;16)	(0;0)	(10;-3)	(-2;6)
6	(-7;4)	(3;9)	(-1;1)	(-1;4)	(3;6)
7	(-4;10)	(11;5)	(-1;1)	(3;5)	(9;7)
8	(-1;-4)	(-11;-9)	(-7;-1)	(-7;-4)	(-11;-6)
9	(3;3)	(-12;2)	(0;6)	(-4;2)	(-10;0)
10	(-11;8)	(13;15)	(1;-1)	(11;-4)	(-1;5)
11	(-4;2)	(6;7)	(2;-1)	(2;2)	(6;4)
12	(-2;8)	(13;3)	(1;-1)	(5;3)	(11;5)
13	(9;-5)	(-1;-10)	(3;-2)	(3;-5)	(-1;-7)
14	(-2;-8)	(-17;-3)	(-5;1)	(-9;-3)	(-15;-5)

15	(-13;10)	(11;17)	(-1;1)	(9;-2)	(-3;7)
16	(1;8)	(11;13)	(7;5)	(7;8)	(11;10)
17	(-1;9)	(14;4)	(2;0)	(6;4)	(12;6)
18	(0;-3)	(-10;-8)	(-6;0)	(-6;-3)	(-10;-5)
19	(-1;-7)	(-16;-2)	(-4;2)	(-8;-2)	(-14;-4)
20	(-10;8)	(14;15)	(2;-1)	(12;-4)	(0;5)
21	(-8;6)	(2;11)	(-2;3)	(-2;6)	(2;8)
22	(-3;11)	(12;6)	(0;2)	(4;6)	(10;8)
23	(6;-7)	(-4;-12)	(0;-4)	(0;-7)	(-4;-9)
24	(0;-6)	(-15;-1)	(-3;-3)	(-7;-1)	(-13;-3)
25	(-5;14)	(19;21)	(7;5)	(17;2)	(5;11)
26	(-6;7)	(4;12)	(0;4)	(0;7)	(4;9)
27	(0;6)	(15;1)	(3;-3)	(7;1)	(13;3)
28	(8;-6)	(-2;-11)	(2;-3)	(2;-6)	(-2;-8)
29	(3;-11)	(-12;-6)	(0;-2)	(-4;-6)	(-10;-8)
30	(-14;12)	(10;19)	(-2;3)	(8;0)	(-4;9)

Задание 2. Плоскость и прямая в пространстве.

- 2.1. Доказать что точки A , B , C , D не лежат в одной плоскости.
- 2.2. Составить уравнения плоскостей, содержащих грани пирамиды $ABCD$.
- 2.3. Составить уравнение плоскости, проходящей через вершину D пирамиды параллельно грани ABC .
- 2.4. Составить уравнение плоскости, проходящей через ребро AB параллельно ребру CD .

2.5. Составить уравнение плоскости, проходящей через точки A и B перпендикулярно грани ACD .

2.6. Составить уравнения прямой, содержащей ребро CD .

2.7. Составить уравнения прямой, проходящей через точку B параллельно ребру AC .

2.8. Найти величину двугранного угла при ребре AD .

2.9. Найти величину угла между прямой CD и плоскостью ABC .

2.10. Составить уравнение плоскости, проходящей через точку D перпендикулярно ребру AB .

2.11. Составить уравнения прямой, содержащей высоту DH пирамиды $ABCD$.

2.12. Найти координаты основания H высоты пирамиды $ABCD$, опущенной из вершины D .

Варианты задания 2.

1	$A(-2;1;1)$	$B(-5;1;-2)$	$C(-3;0;3)$	$D(-6;0;1)$
2	$A(-3;-4;1)$	$B(-2;-3;-5)$	$C(0;0;0)$	$D(-6;0;3)$
3	$A(-2;4;5)$	$B(1;3;-4)$	$C(-5;-5;1)$	$D(-1;2;-2)$
4	$A(-1;2;0)$	$B(-4;2;-3)$	$C(-2;1;2)$	$D(-5;1;0)$
5	$A(-2;-3;0)$	$B(-1;-2;-6)$	$C(1;1;-1)$	$D(-5;1;2)$
6	$A(-1;5;-6)$	$B(2;4;-5)$	$C(-4;-4;0)$	$D(0;3;-3)$
7	$A(-3;2;2)$	$B(-6;2;-1)$	$C(-4;1;4)$	$D(-7;1;2)$
8	$A(-4;-3;2)$	$B(-3;-2;-4)$	$C(-1;1;1)$	$D(-7;1;4)$
9	$A(-3;5;-4)$	$B(0;4;-3)$	$C(-6;-4;2)$	$D(-2;3;-1)$
10	$A(0;1;1)$	$B(-3;1;-2)$	$C(-1;0;3)$	$D(-4;0;1)$
11	$A(1;-2;1)$	$B(1;-5;-2)$	$C(0;-3;3)$	$D(0;-6;1)$

12	$A(-4;-3;1)$	$B(-3;-2;-5)$	$C(0;0;0)$	$D(0;-6;3)$
13	$A(4;-2;-5)$	$B(3;1;-4)$	$C(-5;-5;1)$	$D(2;-1;-2)$
14	$A(2;-1;0)$	$B(2;-4;-3)$	$C(1;-2;2)$	$D(1;-5;0)$
15	$A(-3;-2;0)$	$B(-2;-1;-6)$	$C(1;1;-1)$	$D(1;-5;2)$
16	$A(5;-1;-6)$	$B(4;2;-5)$	$C(-4;-4;0)$	$D(3;0;-3)$
17	$A(2;-3;2)$	$B(2;-6;-1)$	$C(1;-4;4)$	$D(1;-7;2)$
18	$A(-3;-4;2)$	$B(-2;-3;-4)$	$C(1;-1;1)$	$D(1;-7;4)$
19	$A(5;-3;-4)$	$B(4;0;-3)$	$C(-4;-6;2)$	$D(3;-2;-1)$
20	$A(1;0;1)$	$B(1;-3;-2)$	$C(0;-1;3)$	$D(0;-4;1)$
21	$A(1;0;1)$	$B(-2;1;-5)$	$C(3;0;-3)$	$D(1;0;-6)$
22	$A(1;-4;-3)$	$B(-5;-3;-2)$	$C(0;0;0)$	$D(3;0;-6)$
23	$A(-5;4;-2)$	$B(-4;3;1)$	$C(1;-5;-5)$	$D(-2;2;-1)$
24	$A(0;2;-1)$	$B(-3;2;-4)$	$C(2;1;-2)$	$D(0;1;-5)$
25	$A(0;-3;-2)$	$B(-6;-2;-1)$	$C(-1;1;1)$	$D(2;1;-5)$
26	$A(-6;5;-1)$	$B(-5;4;2)$	$C(0;-4;-4)$	$D(-3;3;0)$
27	$A(2;2;-3)$	$B(-1;2;-6)$	$C(4;1;-4)$	$D(2;1;-7)$
28	$A(2;-3;-4)$	$B(-4;-2;-3)$	$C(1;1;-1)$	$D(4;1;-7)$
29	$A(-4;5;-3)$	$B(-3;4;0)$	$C(2;-4;-6)$	$D(-1;3;-2)$
30	$A(1;1;0)$	$B(-2;1;-3)$	$C(3;0;-1)$	$D(1;0;-4)$

Учебно-методическое издание

Фроловичев Александр Иванович
Аналитическая геометрия. Часть II.
Методические указания

Подписано в печати - 30.08.07, Формат 60×84/16 Изд. № 285-07
Заказ № 467, Усл. - п.л. 3,25 Тираж 150.

127994 Москва, ул. Образцова, 15
Типография МИИТа